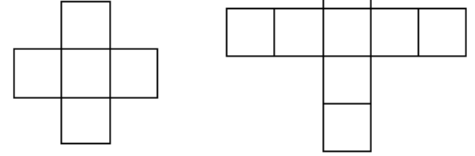




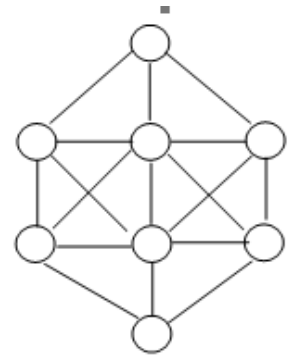
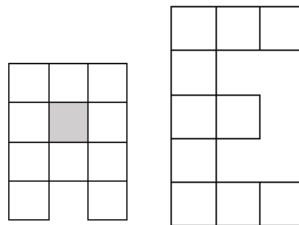
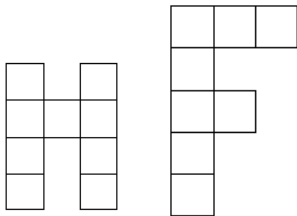
**PUNKTIŅŠ**  
**Maģiskās skaitļu figūras**  
14.10.2016

Piezīme: uzdevumi, kuri apzīmēti ar \* , ir grūtāki.

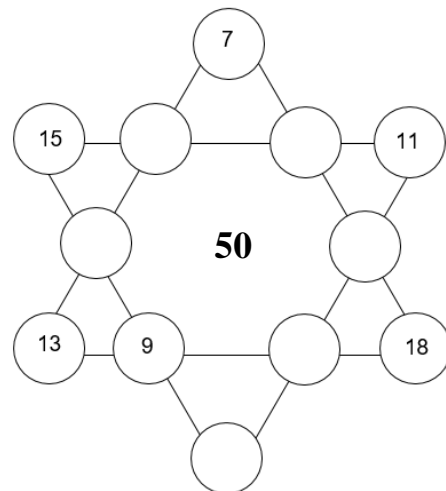
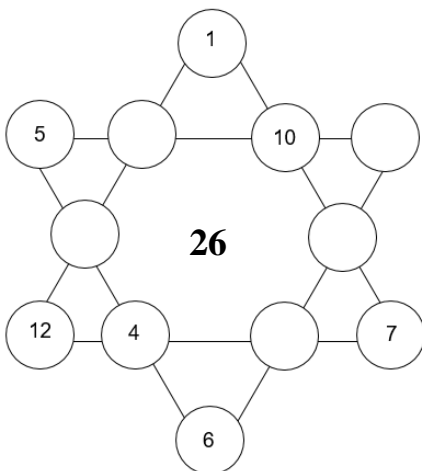
1. Katrā krustiņa 3 x 3 rūtiņā izvietojiet skaitļus 1, 2, 3, 4, 5 tā, lai to kopējā summa horizontālajās rūtiņās ir vienāda ar summu vertikālajās rūtiņās.  
Kādu skaitli var likt centrālajā rūtiņā?



2. Krustiņa 5 x 5 rūtiņās ierakstiet skaitļus no 1 līdz 9 tā, lai abās rindās skaitļu summas ir vienādas.
3. Aizpildiet burta H rūtiņas ar skaitļiem no 1 līdz 9 tā, lai skaitļu summas abās vertikālajās rindās un horizontālajā rindā ir vienādas. Burta F rūtiņas aizpildiet ar skaitļiem no 1 līdz 8 pēc tā paša principa.
4. \* Burta A rūtiņas aizpildiet ar skaitļiem no 0 līdz 9 tā, lai skaitļu summas rindās ir vienādas. Tāpat aizpildiet arī burta E rūtiņas.



5. Izvietojiet aplīšos skaitļus no 1 līdz 8 tā, lai nekādi skaitļi, kuru starpība ir 1, neatrastos blakus (blakus – cipari aplīšos ir savienoti ar nogriežni).
6. Zvaigznītēs izvietojiet trūkstošos skaitļus no mazākā dotā līdz lielākajam, lai summas uz līnijām vienādas ar skaitli zvaigznītes centrā.



**Ieteicamais mājas darbs:**

Mēģināt aizpildīt vienu no 4. uzdevuma burtiem (A vai E) vai arī aizpildīt lielāko zvaigznīti ar skaitļiem no 11 līdz 24 tā, lai katrā rindā aplīšos ierakstīto skaitļu summa būtu vienāda ar 70.

