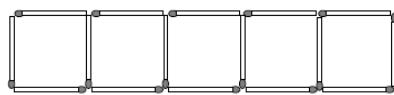


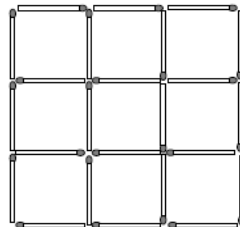
Punktiņš. Sērkociņu uzdevumi

05.10.2018.

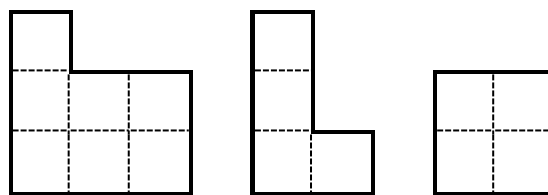
1. Pārvieto 4 sērkociņus tā, lai izveidojas 4 vienādi kvadrāti!



2. Marks no sērkociņiem salika šo figūru. Noņem 8 sērkociņus tā, lai paliek 2 kvadrāti!



3. Kādu vislielāko kvadrātu skaitu tu vari izveidot no 20 sērkociņiem?
4. Cik sērkociņus ir jāizmanto, lai uz galda saliktu rūtiņu taisnstūri, kuram ir 48 rūtiņas?
5. Kāds ir rūtiņu taisnstūra izmērs, ja tas salikts no 85 sērkociņiem?
6. No sērkociņiem ir salikts rūtiņu taisnstūris, kuram ir 5 x 6 rūtiņas. Noņēma vairākus sērkociņus. Uz galda palika taisnstūra sadalījums, kurā redzamas sekojošās figūras:



Cik sērkociņus noņēma?