



Punktiņš konstruē. Cik liela daļa no figūras ir iekrāsota?

15.02.2019

1. Cik liela daļa no figūras ir iekrāsota?

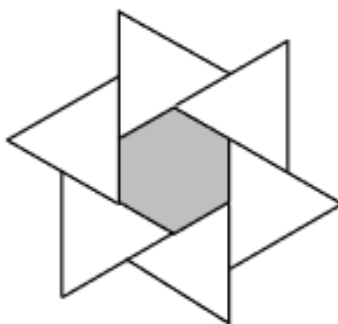


a)



b)

2. Figūrā attēloti vienādmalu trijstūri, kuru malas garums ir 2 cm, bet vidū ir vienādmalu sešstūris, kura malas garums ir 1 cm. Kāda ir iekrāsotā laukuma daļa?



3. Sadali dotos sešstūrus vienādās mazākās figūrās, la varētu noteikt, kāda figūras daļa ir iekrāsota!

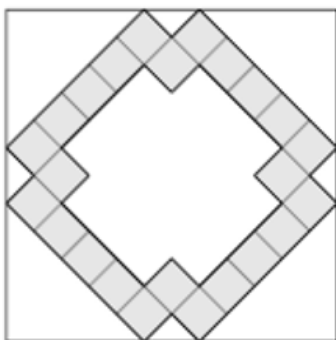


a)



b)

4. Papildini zīmējumu ar nogriežņiem, kurus nosaka slīpi novietotās rītiņas. Nosaki iekrāsotās figūras daļu!



5. Dots vienādmalu astoņstūris. Sadali to vienādās mazākās figūrās, lai noteiktu iekrāsotā laukuma daļu! (Pārējie astoņstūri doti, lai izmēģinātu figūras sadalījumu vienādās daļās)

