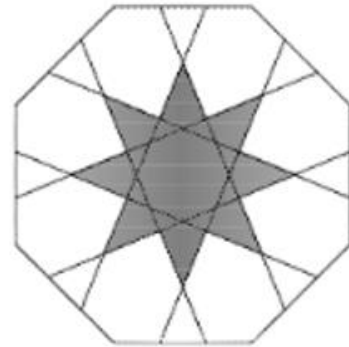
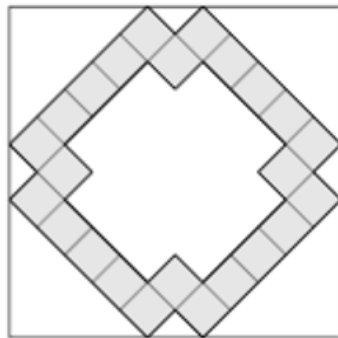
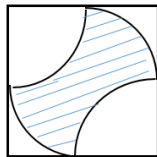
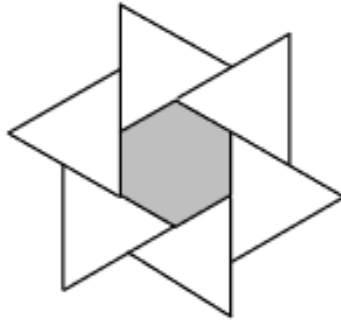



Punktiņš konstruē. Cik liela daļa no figūras ir iekrāsota?

15.02.2019

1. Nosaki iekrāsotās daļas laukuma attiecību pret visu figūras laukumu!



2. Kvadrāta laukums ir 196 cm^2 . Tā iekšpusē ir konstruēti divi kvadrāti, kuri pārklājas. Lielākais kvadrāts ir 4 reizes lielāks nekā mazākais. Pārklāšanās kvadrāta laukums ir 1 cm^2 . Cik liela ir iekrāsotā daļa?

3. Kvadrāta mala ir 12 cm. Stūros ir kvadrāti, kuru malu garumi ir 1, 2, 3, 4 cm. Cik liela ir iekrāsotā daļa?

